



**Prefeitura
de Rolândia**



SECRETARIA MUNICIPAL DE EDUCAÇÃO

ATIVIDADES COMPLEMENTARES DE ESTUDO – COVID 19

26º ROTEIRO DE ATIVIDADES DE ESTUDO COVID 19.

ESCOLA MUNICIPAL GERALDA CHAVES TIRADENTES

ALUNO(a) _____ SALA DE RECURSO

COMPONENTES CURRICULARES: LÍNGUA PORTUGUESA MATEMÁTICA.

PERÍODO DE REALIZAÇÃO: 02/11/2020 à 06/11/2020

Senhores pais e responsáveis

Vocês estão recebendo as **Atividades Complementares de Estudo para o período de isolamento-COVID 19**. Necessito muito de sua participação para que essas atividades sejam realizadas pelo seu filho. Os senhores precisam organizar um tempo, em casa, para a realização das atividades e para que seu filho possa estudar com tranquilidade.

No roteiro a seguir estão as atividades e todas as orientações para sua execução. Tudo está descrito de forma simples. Mas se houver alguma dúvida podem entrar em contato pelo *Whatsapp*, estarei à disposição para ajudá-los.

O que vamos aprender? LÍNGUA PORTUGUESA: Leitura e escrita de palavras, desafio e produção de texto.

MATEMÁTICA: Operações, números, desafio e lateralidade.

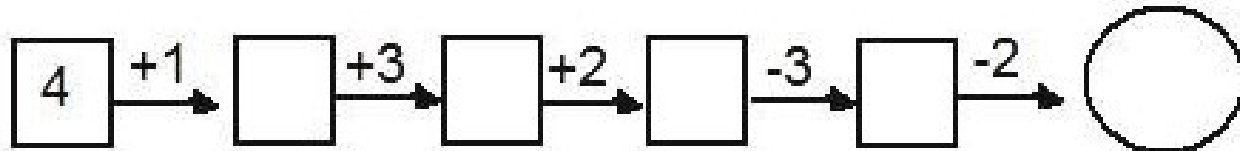
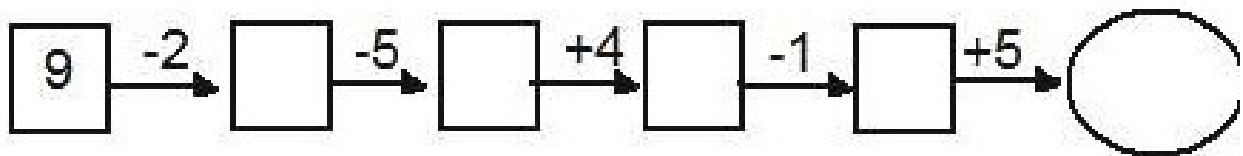
Para que vamos aprender esses conteúdos? Realizar a leitura e a escrita de palavras, resolver desafio e produção de texto.

Resolver operações, desafio e lateralidade.

Como vamos registrar esses conteúdos? Realizar nas folhas impressas ou no caderno.

3- VAMOS RESOLVER AS OPERAÇÕES E DEPOIS ESCREVER OS MESES DO ANO.

Encontre os resultados:



Escreva os números formados por:

$10 + 9 = \square$

$40 + 8 = \square$

$90 + 1 = \square$

$30 + 6 = \square$

$20 + 5 = \square$

$80 + 6 = \square$

$20 + 2 = \square$

$30 + 4 = \square$

$50 + 7 = \square$

Os meses do ano são:

1= _____ 7= _____

2= _____ 8= _____

3= _____ 9= _____

4= _____ 10= _____

5= _____ 11= _____

6= _____ 12= _____

4- LEIA AS DICAS COM MUITA ATENÇÃO E RESOLVA ESSE DESAFIO.



João

Marcos

Felipe

Gustavo

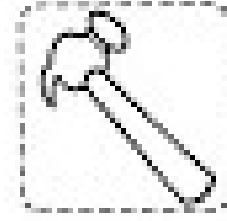


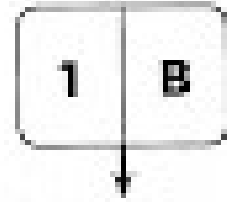
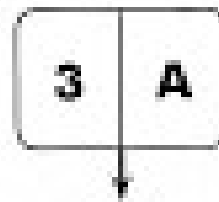
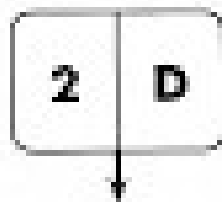
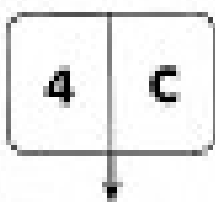
Pedro

Algumas figurinhas foram distribuídas entre as crianças. Leia as dicas abaixo com atenção para descobrir: Quantas figurinhas cada criança recebeu? E qual o total de figurinhas distribuídas?

- 1- Se Gustavo tivesse mais uma figurinha, ficaria com o mesmo número de figurinhas que João.
- 2- Pedro ganhou 3 dezenas mais 2 figurinhas e dividiu por 4.
- 3- Marcos ganhou 5 dezenas menos 1 figurinha e dividiu por 7.
- 4- João ganhou 4 dezenas mais 2 figurinhas e dividiu por 7.
- 5- Felipe ganhou 1 dúzia e meia de figurinhas e dividiu por 2.

5- RECORTE OS CONJUNTOS ABAIXO E COLE-OS NO QUADRO DE ACORDO COM A QUANTIDADE DE ELEMENTOS E COM A LETRA CORRESPONDENTE.

	A	B	C	D
1				
2				
3				
4				



6- AGORA VAMOS DESENHAR DE ACORDO COM AS PISTAS SUGERIDAS NA ATIVIDADE E DEPOIS PINTE.

COMPLETE A CENA DE ACORDO COM AS PISTAS:

- DESENHE UM SOL DO LADO DIREITO.
- DESENHE UMA ÁRVORE DO LADO ESQUERDO DA CASA.
- DESENHE MONTANHAS ATRÁS DA CASA.
- DESENHE UMA CRIANÇA EM FRENTE A CASA.
- DESENHE UM JARDIM AO LADO DIREITO DA CASA.

